

يشتمل الصف الحادي عشر بمدرسة كنوز العلم على (40) طالباً، اشترك (22) طالباً منهم في النشاط الثقافي، في حين اشترك في النشاط الرياضي (15) طالباً، واشترك (7) طلاب منهم في النشاطين معاً. كم عدد طلاب هذا الصف الذين لم يشتركوا بأي نشاط؟

- 10 طلاب
- المعلومات المعطاة غير كافية
- 30 طالباً
- 3 طلاب

كم مرة ينطبق عقربا الساعة على بعضهما في اليوم الواحد؟

24 مرة

22 مرة

12 مرة

6 مرات

بمناسبة عيد الأضحى المبارك اشترى محمد حلوى بقيمة 50 ريال عماني، وأخبره التاجر أن قيمة الوعاء الفخاري أقل عن قيمة الحلوى بمبلغ 38 ريال، فما هو المبلغ الذي سيدفعه محمد لو رغب في شراء الحلوى في وعاء فخاري؟

62 ريال

12 ريال

88 ريال

50 ريال

يمارس ناصر و سعيد و أحمد كرة القدم ، و يمارس ناصر  
و أحمد كرة السلة ، بينما يمارس سعيد و خلفان التنس  
. من منهم يمارس كرة القدم و التنس؟

ناصر

خلفان

سعيد

أحمد

في إحدى البطولات الرياضية لكرة القدم، قام سعود بتسديد 10 ضربات جزاء في 15 مباراة، فأحرز أهدافاً بقدر نصف هذه الضربات، فكم سيكون عدد أهداف سعود لو ازداد عدد هذه المباريات إلى 24 مباراة واستمر معدل الحصول على ضربات الجزاء والتسديد والإحراز ثابتاً لديه؟

ستة عشر هدفاً

عشرة أهداف

ثمانية أهداف

ستة أهداف

صندوق بداخله ثلاث صناديق في كل صندوق منهما ثلاثة  
صناديق أخرى ما مجموع الصناديق كلها ؟

ثلاثة عشر صندوقاً

أحد عشر صندوقاً

عشرة صناديق

اثنا عشر صندوقاً

علي أطول من حسان، وصالح أقصر من علي ولكنه ليس في طول حسان. أي من العبارات التالية صحيحة؟

حسان أطول من صالح

صالح أطول من حسان

لا يمكن معرفة من منهما أطول

صالح وحسان بطول واحد

تقابل ستة أشخاص في مكان ما ، فإذا صافح كل شخص منهم  
الآخر مرة واحدة فقط ، فكم عدد المصافحات التي تمت ؟

12 مرة

18 مرة

ست مرات

15 مرة



ضبطت ساعة حائط على الساعة السادسة صباحاً وكانت هذه الساعة تتأخر 20 دقيقة كل ساعة، فسوف تشير عقارب الساعة عند الساعة السادسة مساءً إلى .... ؟

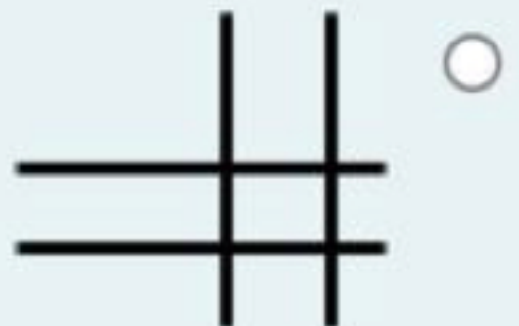
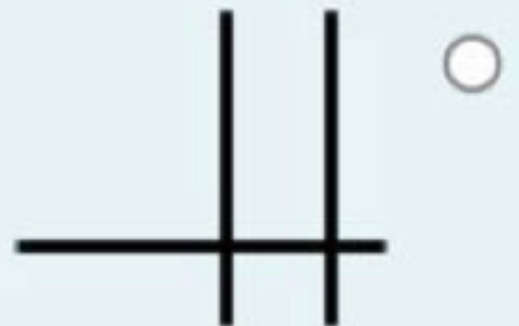
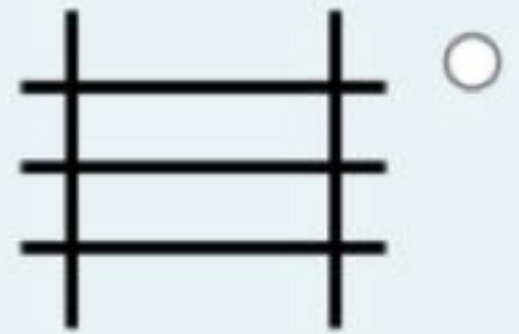

الخامسة بعد الظهر

الثانية بعد الظهر

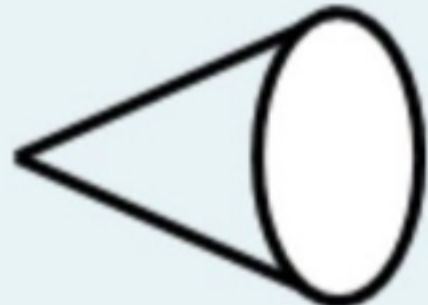

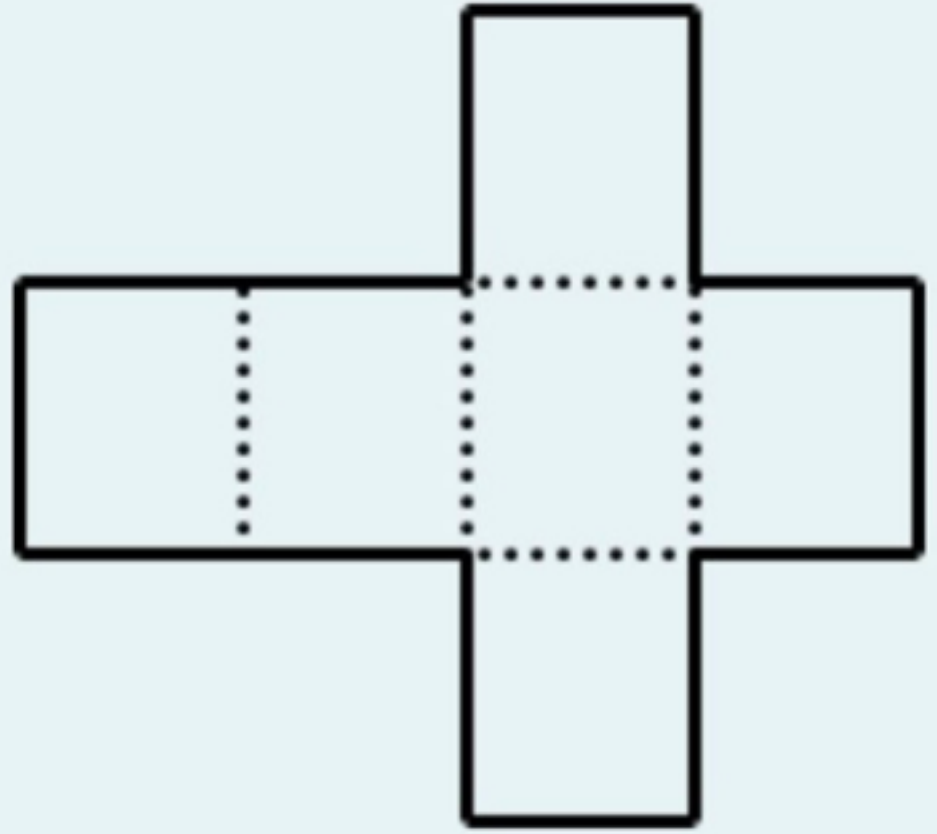
الرابعة بعد الظهر

الثالثة بعد الظهر










39. ما هو الشكل المكمل للسلسلة؟



37. عند طي الورقة المقابلة على الخطوط المنقوطة فإن الشكل النهائي يكون



38. أي من الأشكال التالية هو الأنسب لملء الفراغ ؟

 	  	
  	?	